

高齢者をめぐる日本の現状に関する次の記述ア～オのうちには妥当なものが二つある。それらはどれか。

- ア．平均寿命は，男性も女性も近年70代後半で推移しており，女性の方が男性よりも長い。
- イ．公的高齢年金では，原則として65歳から年金を受給できるが，希望すれば一定の年齢の範囲内で受給開始時期を選択できる，年金の繰上げ・繰下げ受給の制度がある。
- ウ．原則75歳以上の高齢者を対象とした後期高齢者医療では，医療費の窓口負担割合が所得にかかわらず3割であったが，近年，所得にかかわらず1割に引き下げられた。
- エ．65歳以上の者における，公的介護保険制度の要介護又は要支援の認定者数は，近年減少傾向にある。
- オ．自動車等の運転免許証の更新期間が満了する日に年齢が一定以上の高齢者は，運転免許証を更新するに当たり，高齢者講習の受講や認知機能検査の受検が義務付けられている。

- 1. ア，ウ
- 2. ア，オ
- 3. イ，エ
- 4. イ，オ
- 5. ウ，エ

〔正答番号〕 1 2 3 5

日本の国政選挙の制度に関する次の記述ア～オのうちには妥当なものが二つある。それらはどれか。

- ア. 選挙権と被選挙権はいずれも満18歳以上の国民に認められている。
- イ. 在外選挙制度が設けられており、外国に在住する日本国民も国政選挙で投票できるようになっている。
- ウ. 選挙運動には様々な規制があり、例えば、候補者はウェブサイトやSNSを利用した選挙運動を行うことが禁止されている。
- エ. 衆議院議員の選挙では小選挙区比例代表並立制が導入されており、小選挙区選挙では、各選挙区で得票数が多い上位2名が当選する。
- オ. 参議院議員の選挙では選挙区選挙と比例代表選挙が併用されており、このうち比例代表選挙では、有権者は候補者名又は政党名のいずれかを書いて投票する。

- 1. ア, ウ
- 2. ア, エ
- 3. イ, エ
- 4. イ, オ
- 5. ウ, オ

〔正答番号〕 1 2 3 5

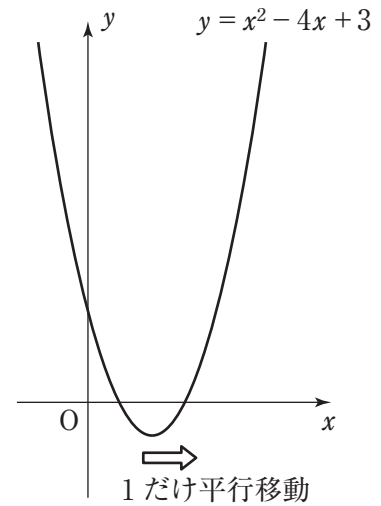
世界の難民等（難民，国内避難民など）に関する次の記述ア～オのうちには
妥当なものが三つある。それらはどれか。

- ア. 2021年末時点の世界の難民等の数は，2000年末時点よりも大幅に減少している。
- イ. 2021年末時点の難民等の数について発生国別に見ると，シリア，コンゴ民主共和国，コロンビアなどが多い。
- ウ. 国連難民高等弁務官事務所は，難民等に保護を与え，本国への帰還などを支援しており，日本は，同機関へ人材を派遣したり，金銭的な支援を行ったりしている。
- エ. 近年，日本における毎年の難民認定者数は，欧米諸国の中でも積極的に難民を受け入れているドイツとほぼ同じ人数となっている。
- オ. 2022年にロシアによるウクライナ侵攻が始まると，日本ではウクライナからの避難民の受け入れが行われ，地方公共団体による支援が避難民に対して行われている。

- 1. ア，イ，ウ
- 2. ア，ウ，エ
- 3. ア，エ，オ
- 4. イ，ウ，オ
- 5. イ，エ，オ

〔正答番号〕 1 2 3 5

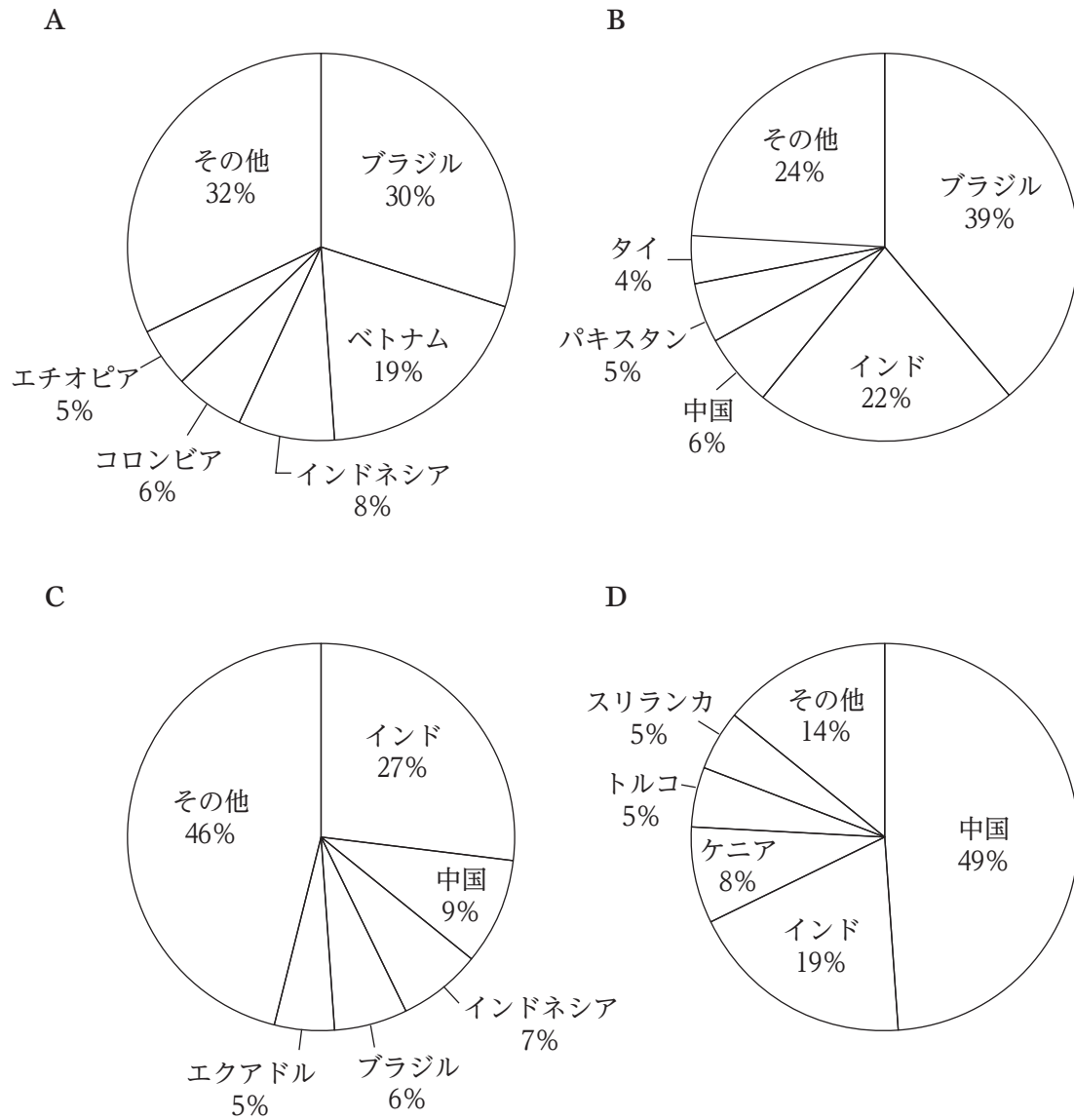
xy 平面上において、図に示した放物線 $y = x^2 - 4x + 3$ を x 軸方向に 1 だけ平行移動して得られる放物線について、定義域を $0 \leq x \leq 4$ とするとき、 y の最大値及び最小値はそれぞれいくらか。



- | | 最大値 | 最小値 |
|----|-----|-----|
| 1. | 3 | -2 |
| 2. | 3 | -1 |
| 3. | 8 | -2 |
| 4. | 8 | -1 |
| 5. | 15 | -2 |

〔正答番号〕 1 2 3 5

次のグラフ A～D は、コーヒー豆、サトウキビ、茶葉、バナナの 2021 年における生産量の国別の割合（上位 5 か国）を示したものである。グラフと品目を正しく組み合わせているのはどれか。



- | A | B | C | D |
|----------|-------|-------|-------|
| 1. コーヒー豆 | サトウキビ | バナナ | 茶葉 |
| 2. コーヒー豆 | 茶葉 | バナナ | サトウキビ |
| 3. コーヒー豆 | バナナ | サトウキビ | 茶葉 |
| 4. バナナ | コーヒー豆 | サトウキビ | 茶葉 |
| 5. バナナ | コーヒー豆 | 茶葉 | サトウキビ |

平安時代末期から鎌倉時代までの日本に関する次の記述ア～オのうちには妥当なものが二つある。それらはどれか。

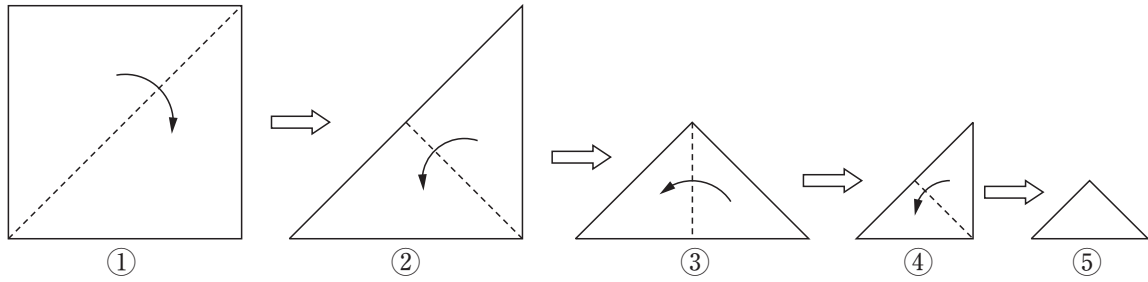
- ア. 平安時代末期，武士の政治的地位が高まり平氏が政権を握った。平清盛は，朝廷の權威を認めず，朝廷が清盛に太政大臣の官位を与えようとした際もこれを拒絶した。
- イ. 源頼朝が平氏打倒を掲げて挙兵し，戦乱の結果，平氏は滅亡した。源頼朝は朝廷から守護や地頭を任命する権利を獲得し，また，征夷大將軍に任ぜられた。
- ウ. 鎌倉時代初期，後鳥羽上皇が幕府の執権であった北条氏打倒の兵を挙げた。大多数の東国武士が上皇に同調し，北条氏は戦いに敗れて滅亡した。
- エ. 元の軍が二度，日本に襲来した。幕府は元の軍を退けたが，多大な犠牲を払った御家人に対し十分な恩賞を与えることができなかった。
- オ. 鎌倉時代末期，足利高氏（尊氏）が討幕を掲げて挙兵した。これに対し，後醍醐天皇は鎌倉幕府を支持したが，最終的に鎌倉幕府は敗れ滅亡した。

- 1. ア，エ
- 2. ア，オ
- 3. イ，ウ
- 4. イ，エ
- 5. ウ，オ

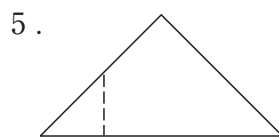
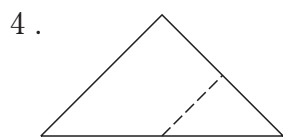
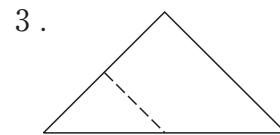
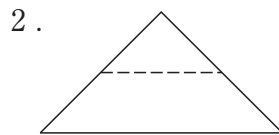
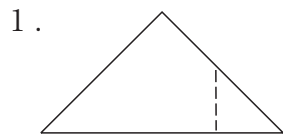
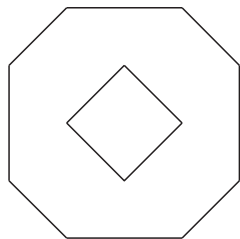
〔正答番号〕 1 2 3 5

正方形の紙を，図Ⅰのように①～⑤の順番に点線に沿って谷折りにしていく。
 折り曲げた⑤の紙を，ある直線に沿ってはさみで切り，切り分けられた一方を広げたところ，
 図Ⅱのようになった。⑤においてははさみを入れた直線を破線で示したものはどれ
 か。

図Ⅰ



図Ⅱ



〔正答番号〕 1 2 4 5

a, b はそれぞれ3桁の正の整数であり、 $b = 5a$ が成り立つ。また、 a は11で割り切れ、 b は7で割り切れる。このとき、 a の各位の数字の和はいくらか。

1. 10
2. 11
3. 12
4. 13
5. 14

〔正答番号〕 2 3 4 5

あるグループの人々に、ゴルフ、バスケットボール、ボクシング、マラソンを観戦したことがあるか尋ねたところ、次のことが分かった。このとき、論理的に正しく言えるのはどれか。

- ・ボクシングを観戦したことがある人は、バスケットボールを観戦したことがある。
 - ・バスケットボールを観戦したことがある人は、ゴルフを観戦したことがない。
 - ・マラソンを観戦したことがある人は、ゴルフを観戦したことがない。
-
1. ゴルフを観戦したことがある人は、ボクシングを観戦したことがない。
 2. バスケットボールを観戦したことがある人は、ボクシングを観戦したことがある。
 3. バスケットボールを観戦したことがある人は、マラソンを観戦したことがない。
 4. ボクシングを観戦したことがある人は、マラソンを観戦したことがある。
 5. マラソンを観戦したことがない人は、バスケットボールを観戦したことがない。

〔正答番号〕 2 3 4 5