


(1)  に あてはまる 数を かきましょう。

① 1000を3こ, 100を1こ, 10を2こ あわせた数は



② 1000を2こ, 1を3こ あわせた数は



お金でかんがえるのも ヒントになるね。

③ 10を35こ あつめた数は



④ 100を43こ あつめた数は



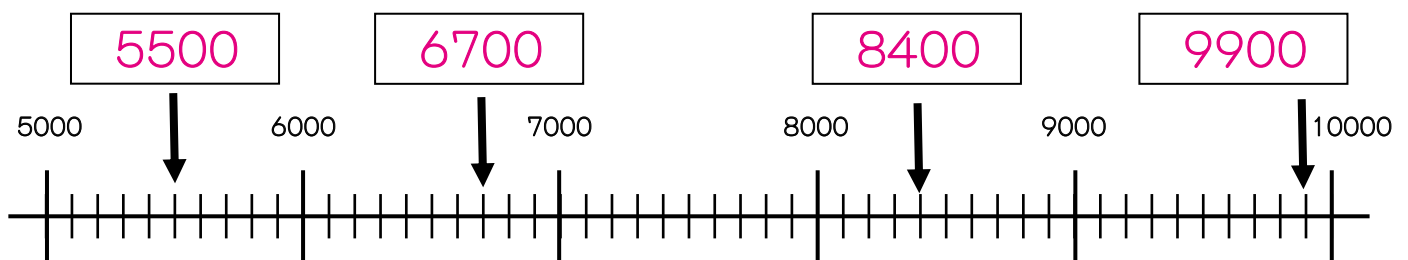
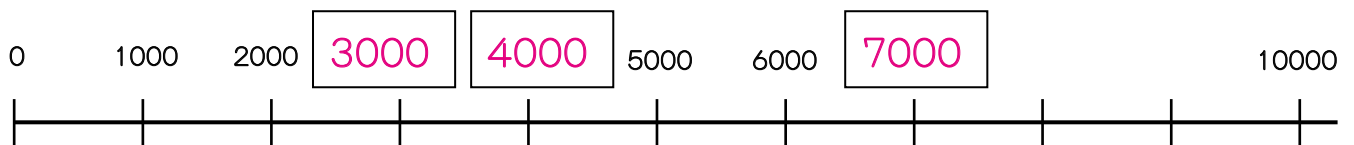
トリンの  
こころの中を  
そうぞう  
想像しよう

⑤ 1000より 1 小さい数は

トリン わかる?

.....

(2)  に あてはまる 数を かきましょう。



☆家の人のしるし

(1) トリピーは、8こ入りのなしのはこを7はこもらいました。

① なしは、ぜんぶでなんこあるでしょう。

しき  $8 \times 7 = 56$

こたえ 56こ

おいしいなしだよ。どうぞ。

2-22

② トリピーは、もらったなしをトリリンに18こあげました。

なしはなんこのこっているでしょう。

しき  $56 - 18 = 38$

こたえ 38こ



③ つぎの日、トリピーは、おばさんからなしを6こもらいました。

なしは、なんこになったでしょう。

しき  $38 + 6 = 44$

こたえ 44こ

(2) トリピーは妹にみかんを15こあげたので、もっているみかんが28こになりました。

トリピーははじめにみかんをなんこもっていたでしょう。

しき  $28 + 15 = 43$

こたえ 43こ



(3) トリピーはいちごを26ことりました。

トリリンのとったいちごは、トリピーより8こ少なかったそうです。

トリリンのとったいちごはなんこでしょう。

しき  $26 - 8 = 18$

こたえ 18こ



わたしのいちごは、トリピーより8こ少ないわ。

☆家の人のしるし